



Задания II этапа городской олимпиады по оригами - 2025 для 3-4 классов

Задание 1. (26.)

У Эдуарда 4 бруска:    

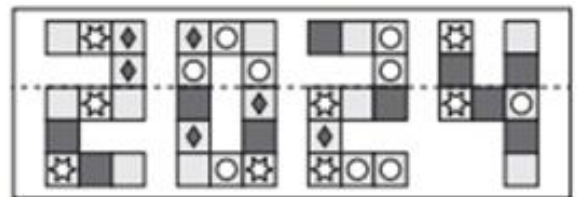
Какой из показанных ниже кубов он может сделать из своих брусков?




Задание 2. (26.)

Алина складывает лист бумаги с картинкой по пунктирной линии. Какой из следующих квадратов наложится на точно такой же квадрат?

(А)  (Б)  (В)  (Г)  (Д) 



Задание 3. (26.)

Посмотрев в зеркало, Аня увидела отражение часов, которые находятся у неё за спиной: . Какое время будет в отражении, когда Аня посмотрит в зеркало через 30 минут?

(А)  (Б)  (В)  (Г)  (Д) 

Задание 4. (26.)

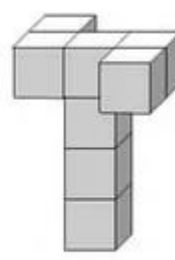
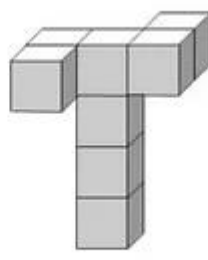
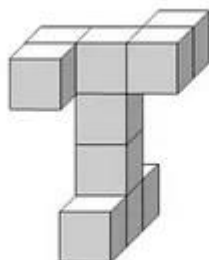
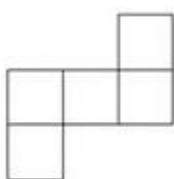
Сколько есть пар, в которых дети держат друг друга левыми руками?

(А) 1 (Б) 2 (В) 3 (Г) 4 (Д) 5

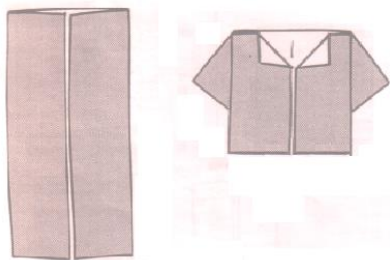


Задание 5. (26.)

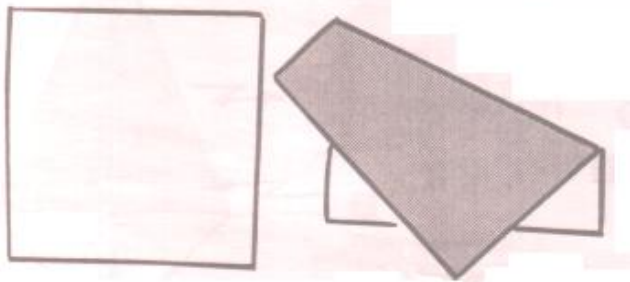
Найди фигуру, имеющую такой вид сверху



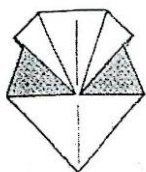
Задание 6. Сложи базовую форму «дверь» и выполни из нее рубашку. (2б.)



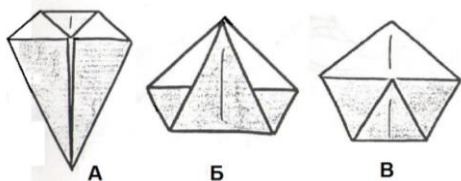
Задание 7. Нарисуйте в чистом квадрате нужную линию и стрелку, чтобы получить результат. (2б.)



Задание 8. На основе базовой формы «воздушный змей» сложите фигуру. (2б.)



Задание 9. Выбери верный вариант рисунка к заданию: «Сложите базовую форму «воздушный змей» и согните прямой угол к точке, где соприкасаются два прямых угла». (2б.)



Задание 10. (2б.)

Выполни чертеж к следующему заданию: «Сложи правую сторону квадрата к средней линии».

